
ВВЕДЕНИЕ


1. Дайте определение понятий:

- а) индустриализация – это ...;
- б) модернизация – это ...

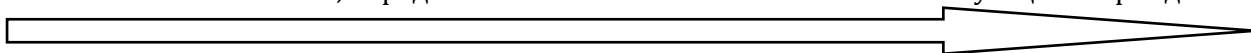
2. Заполните таблицу «Периодизация всемирной истории»:

Периоды всемирной истории	Хронологические рамки	События, послужившие переходом к следующему периоду
История первобытного общества		
История древних цивилизаций		
История Средних веков		
История Нового времени		
История Новейшего времени		


3. Начертите в тетради «линию времени» и обозначьте на ней хронологические рамки Нового времени. Обозначьте на «линии времени» периоды Нового времени, их хронологические рамки и названия событий, определивших начало и окончание соответствующего периода:



4. Начертите в тетради «линию времени» и обозначьте на ней хронологические рамки Новейшего времени. Обозначьте на «линии времени» периоды Новейшего времени, их хронологические рамки и названия событий, определивших начало и окончание соответствующего периода:



5. Составьте схему «Основные тенденции исторического развития в XIX – начале XX в.»:



6. Составьте схему «Основные тенденции исторического развития в Новейшее время»:

